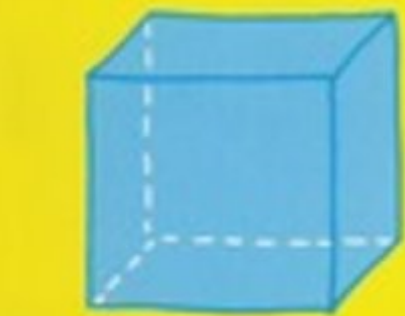




# 50 ĐỀ KIỂM TRA CUỐI HỌC KỲ II MÔN TOÁN LỚP 2



# 50 ĐỀ KIỂM TRA CUỐI KÌ II

## MÔN TOÁN LỚP 2

## ĐỀ SỐ 1

1. Khoanh vào chữ đặt trước câu trả lời đúng:

A) Các số 562; 625; 652 viết theo thứ tự từ bé đến lớn là:

a. 562; 625; 652

b. 625; 562; 652

c. 652; 625; 562

B) Trong các số 265; 279; 257; 297; số lớn hơn 279 là:

a. 265

b. 257

c. 297

2. Đúng ghi Đ, sai ghi S:

a.  $38m + 27m = 65m$

b.  $1m = 10dm$

c.  $16cm : 4 = 12cm$

d.  $1000m = 10km$

3. Viết tiếp vào chỗ chấm cho thích hợp:

a. 211; 212; 213; .....; .....; 216; .....; 218; 219; .....

b. 510; 515; .....; 525; 530; .....; .....

4. Nối mỗi số với cách đọc của số đó:

Tám trăm bảy mươi

400

Năm trăm bảy mươi

404

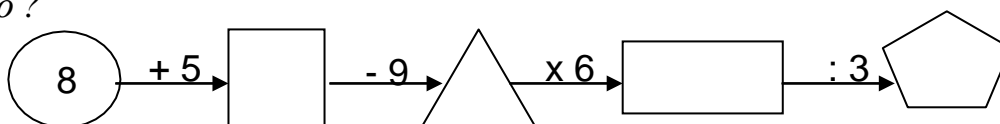
Bốn trăm linh bốn

875

Bốn trăm

578

5. Số ?



6. Điền dấu >, <, = vào ô trống:

a.  $600 + 30 + \square = 63$

c.  $100 \square 1000$

7. Đặt tính rồi tính:

b.  $30 : 5 : 3 \square 12$

d.  $400 \times 2 \square 600 + 200$

a.  $400 + 99$

.....  
 .....  
 .....

b.  $764 -$

.....  
 .....  
 .....

8. Tìm x: a.  $400 + x = 200x$

.....  
 .....  
 .....  
 .....

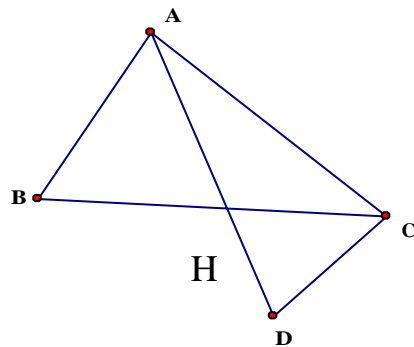
b.  $295 - x = 180$

.....  
 .....  
 .....  
 .....

9. Hình bên có ..... hình tam giác

Viết tên các hình tam giác đó: .....

.....  
 .....



10. Đàn gà nhà Lan có 86 con, đã bán đi 29 con. Hỏi nhà Lan còn lại bao nhiêu con gà?

Giải

.....  
 .....  
 .....

Bài 1: (1 điểm) Viết các số thích hợp vào chỗ trống.

a) 216; 217; 228; .....; .....

b) 310; 320; 330; .....; .....

2/ (1 điểm) Các số : 28, 81, 37, 72, 39, 93 viết các số sau từ bé đến lớn:

A. 37, 28, 39, 72, 93, 81

C. 28, 37, 39, 72, 81, 93

B. 93, 81, 72, 39, 37, 28

D. 39, 93, 37, 72, 28, 81

Bài 3: (1 điểm) Hoàn thành bảng sau:

Đọc số	Viết số	Trăm	Chục	Đơn vị
Bảy trăm chín mươi	790			
.....	935			

Bài 4: (1 điểm) Viết số thích hợp vào chỗ chấm:

1m = .....dm

519cm = .....m.....cm

2m 6 dm = .....dm

14m - 8m = .....

Bài 5: (2 điểm) Đặt tính rồi tính:

84 + 19

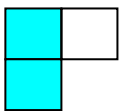
62 - 25

536 + 243

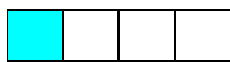
879 - 356

.....  
 .....  
 .....  
 .....


Bài 6. (0,5 điểm) Khoanh vào chữ cái dưới hình được tô màu  $\frac{1}{3}$  số ô vuông.



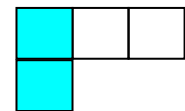
A



B



C



D

Bài 7) Tìm x: (1 điểm)

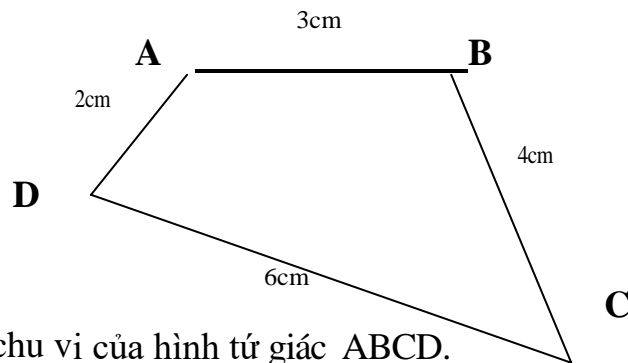
a)  $x : 4 = 8$

b)  $4 \square x = 12 + 8$

.....

.....  
.....  
.....  
.....

Bài 8: (1 điểm) Cho hình tứ giác ABCD như hình vẽ:



a/ Tính chu vi của hình tứ giác ABCD.

Bài giải

.....

.....

.....

.....

*Bài 9: (1,5 điểm) Đội Một trồng được 350 cây, đội Hai trồng được ít hơn đội Một 140 cây. Hỏi đội Hai trồng được bao nhiêu cây ?*

*Bài giải*

.....

.....

.....

.....

## ĐỀ SỐ 2

ĐỀ KIỂM ĐỊNH CHẤT LƯỢNG CUỐI NĂM HỌC 2014- 2015

MÔN TOÁN– KHỐI 2

Thời gian: 40 phút (không kể chép đề)

**Bài 1:** Nối số thích hợp với ô trống: (1 điểm)

a)  < 70

b)  > 40

6

9

5

8

7

4

5

3

**Bài 2:** Đặt tính rồi tính (2 điểm)

$52 + 27$

$54 - 19$

$33 + 59$

$71 - 29$

.....

.....

.....

.....

.....

.....

.....

.....

.....

.....

.....

.....

**Bài 3:** Tìm X (2 điểm)

a)  $X - 29 = 32$

.....

.....

b)  $X + 55 = 95$

.....

.....

**Bài 4:** (2 điểm) Viết số thích hợp vào chỗ trống:

a)  $5 \text{ dm} = \dots\dots\dots \text{ cm}$

$40 \text{ cm} = \dots\dots\dots \text{ dm}$

b)  $1 \text{ m} = \dots\dots\dots \text{ cm}$

$60 \text{ cm} = \dots\dots\dots \text{ dm}$

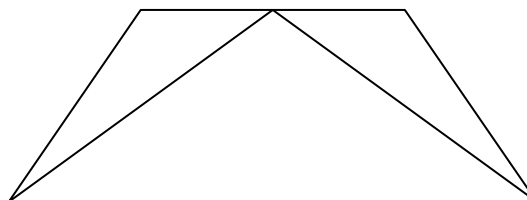
**Bài 5:** (2 điểm) Lớp 2A có tất cả 28 học sinh, xếp thành 4 hàng. Hỏi mỗi hàng có bao nhiêu học sinh?

**Bài 6** (1 điểm).

- Trong hình bên:

Có .... hình tam giác

Có ..... hình tứ giác





### ĐỀ SỐ 3

Bài 1: Tính nhẩm (2đ)

$2 \times 6 = \dots$

$3 \times 6 = \dots$

$27 : 3 = \dots$

$20 : 4 = \dots$

$15 : 3 = \dots$

$24 : 4 = \dots$

$4 \times 7 = \dots$

$5 \times 5 = \dots$

Bài 2: Đặt tính rồi tính (2đ)

$356 + 212$

$857 - 443$

$96 - 48$

$59 + 27$

.....

.....

.....

.....

.....

.....

.....

.....

.....

.....

.....

.....

Bài 3: Tính (2đ)

$5 \times 4 + 15 = \dots$

$30 : 5 : 3 = \dots$

$7 \text{ giờ} + 8 \text{ giờ} = \dots$

$24 \text{ km} : 4 = \dots$

Bài 4: Tìm x (1đ)

$x \times 5 = 35$

$x + 15 = 74$

.....

.....

.....

.....

.....

.....

Bài 5: Có 24 bút chì màu, chia đều cho 3 nhóm. Hỏi mỗi nhóm có mấy bút chì màu? (2điểm)

Bài giải

.....  
.....  
.....

Bài 6: Mỗi chuồng có 4 con thỏ. Hỏi 5 chuồng như thế có bao nhiêu con thỏ ?

Bài giải

.....  
.....  
.....

Bài 7: Điền số ?

$1 \text{ dm} = \dots \text{ cm} \quad 1 \text{ m} = \dots \text{ dm} \quad 1 \text{ km} = \dots \text{ m} \quad 1 \text{ m} = \dots \text{ mm} \quad 1 \text{ cm} = \dots \text{ mm}$

$10 \text{ cm} = \dots \text{ dm} \quad 10 \text{ dm} = \dots \text{ m} \quad 1000 \text{ m} = \dots \text{ km} \quad 1000 \text{ mm} = \dots \text{ m} \quad 10 \text{ mm} = \dots \text{ cm}$

Bài 8: Điền dấu (+, -, x, :) vào ô trống để được phép tính đúng:

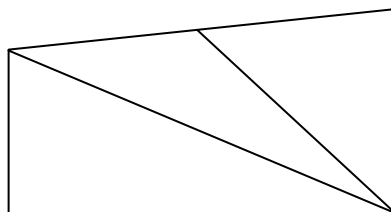
4		5		2	=	10
---	--	---	--	---	---	----

3		5		15	=	30
---	--	---	--	----	---	----

Bài 9: Hình bên có bao nhiêu hình:

a) ..... tứ giác.

b) ..... tam giác



## ĐỀ SỐ 4

### ĐỀ KIỂM TRA TỰ LUYỆN CUỐI HỌC KỲ II Năm học: 2010-2011 MÔN: TOÁN LỚP 2

#### A. PHẦN CƠ BẢN

Bài 1/ Nói mỗi số với cách đọc số đó:

Bốn trăm linh năm

322

Năm trăm hai mươi một

405

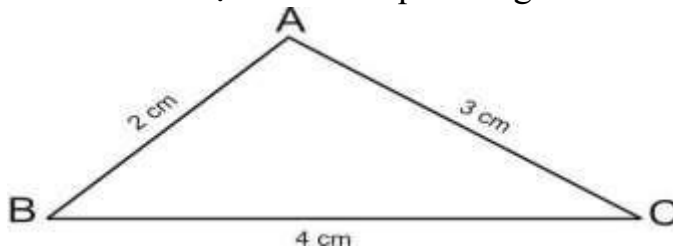
Ba trăm hai mươi hai

450

Bốn trăm năm mươi

521

Bài 2/ Khoanh vào chữ đặt trước kết quả đúng:



Chu vi của hình tam giác trên là:

A. 7 cm

B. 24 cm

C. 9 cm

D. 12 cm

Bài 3/

>  
<  
=

401 ..... 399

701 ..... 688

359 ..... 505

456 ..... 456

Bài 4/ Đặt tính rồi tính:

$47 + 25$

$91 - 25$

$972 - 430$

$532 + 245$

.....

.....

.....

.....

.....

.....

.....

.....

.....

.....

.....

.....

Bài 5/ Một lớp học có 32 học sinh, xếp đều thành 4 hàng. Hỏi mỗi hàng có bao nhiêu học sinh ?

Bài giải:

.....  
.....  
.....  
.....  
.....

Bài 6/ Tìm x.

$100 + x = \boxed{12}$

Câu 7/ Đọc các số sau :

a/ 105:..... b/

234:.....

c/ 396:..... c/

424:.....

Câu 8/ Viết các số : 439 ; 972 ; 394 ; 521

a,/ Theo thứ tự từ lớn đến bé

b/ Theo thứ tự từ bé đến lớn

.....

.....

Câu 9/Tính nhẩm

$400 + 300 =$

$800 - 200 =$

$4 \times 5 =$

$35 : 5 =$

Câu 10/ Đặt tính rồi tính

$64 + 27$

$94 - 75$

$318 + 141$

$784 - 403$

.....

.....

.....

.....

.....

.....

.....

.....

.....

.....

.....

.....

Câu 11/ Tìm x :

$X : 4 = 3$

$25 : x = 5$

.....

.....

.....  
.....

.....  
.....


Câu 12/ Tính

$$24 + 16 - 26 = \dots\dots\dots$$
$$= \dots\dots\dots$$

$$3 \times 6 : 2 = \dots\dots\dots$$
$$= \dots\dots\dots$$

Câu 13/ Khoanh vào chữ đặt trước câu trả lời đúng :

- A. 2 hình tam giác và 2 hình tứ giác
- B. 2 hình tam giác và 3 hình tứ giác
- C. 2 hình tam giác và 4 hình tứ giác



Câu 14/ Bài toán

Có 25 quả cam để vào các đĩa, mỗi đĩa có 5 quả cam. Hỏi có bao nhiêu đĩa cam ?

Bài giải

.....  
.....  
.....  
.....

## B. PHẦN NÂNG CAO

### Câu 1/

a. Tính nhanh:  $1 + 4 + 7 + 10 + 13 + 16 + 19$

.....

b. Điền chữ số thích hợp vào dấu  ?  +  =

### Câu 2/

a) Với bốn chữ số 0, 5, 8, 1. Hãy viết tất cả các số có hai chữ số khác nhau ?

.....

b) Tìm một số biết rằng lấy số đó cộng với 27 thì bằng hiệu của số lớn nhất có hai chữ số với số bé nhất có hai chữ số giống nhau.

.....

### Câu 3/

a) Tìm a, b, c, d = ?

9	11	14	18	a	b	c	44	d
---	----	----	----	---	---	---	----	---

b/ Tìm các giá trị của x biết:

$$38 < x + 31 < 44$$

.....

....

### Câu 4/

Tổng kết năm học, lớp 2A, 2B, 2C có tất cả 19 học sinh giỏi. Biết lớp 2B có 7 học sinh giỏi và lớp 2C có 5 học sinh giỏi. Hỏi lớp 2A có bao nhiêu học sinh giỏi ?

Bài giải

.....  
.....  
.....  
.....  
.....

**Câu 5/**

Cho tam giác ABC có độ dài cạnh AB bằng 12 cm. Tổng độ dài 2 cạnh BC và CA hơn độ dài cạnh AB là 7 cm.

- a) Tìm tổng độ dài hai cạnh BC và CA.
- b) Tính chu vi hình tam giác ABC.

Bài giải

.....  
 .....  
 .....  
 .....  
 .....

**ĐỀ SỐ 5)**

Trường: .....

Lớp : Hai .....

Tên : .....

Ngày thi : .../.../2011

Môn : Toán

**Câu 1 : Đặt tính rồi tính (3đ)**

$36 + 38 =$                        $53 + 47 =$                        $100 - 65 =$                        $100 - 8 =$

.....  
 .....  
 .....  
 .....  
 -----  
 .....  
 .....

**Câu 2 : Số ? (1,5đ)**

- a) 3 ; 5 ; 7 ; ..... ; .....
- b) 10 ; 12 ; 14 ; ..... ; .....
- c) 18 ; 19 ; 20 ; .....;.....

**Câu 3: Tìm X (1đ)**

- a)  $35 - X = 25$   
 .....  
 .....
- b)  $3 \times X = 27$   
 .....  
 .....

**Câu 5 : Anh cân nặng 50kg, em nhẹ hơn anh 15 kg. Hỏi em cân nặng bao nhiêu ki – lô – gam ?**

**Giải**

.....  
 .....  
 .....

**Câu 6 : Mỗi nhóm có 4 học sinh có 9 nhóm nhọ vậy. Hỏi có tất cả bao nhiêu học sinh?**

## Giải

.....  
.....  
.....

### ĐỀ SỐ 6)

Đề kiểm tra định kì lần IV - năm học 2014-2015

Môn : Toán                      Lớp 2

Trường Tiểu học :.....

Tên:.....

Lớp:.....

Bài 1 : Tính

$453+246 = \dots\dots\dots$

$146+725 = \dots\dots\dots$

$752-569 = \dots\dots\dots$

$972-146 = \dots\dots\dots$

Bài 2 : Đặt tính rồi tính

$575-128$

$492-215$

$143+279$

.....  
.....  
.....

Bài 3 : Tìm X

$a, X-428 = 176$

$X+215=772$

.....  
.....

Bài 4: Một cửa hàng bán đường trong ngày hôm nay bán được 453 kg đường  
Buổi sáng bán được 236 kg đường . Hỏi buổi chiều bán được bao nhiêu kg đường ?

Bài giải

.....  
.....  
.....

Bài 5 : Tìm các số có hai chữ số mà tổng các chữ số là 13 , tích là 36

.....  
.....  
.....

Bài 6 : Trường tiểu học Hòa Bình có 214 học sinh lớp 3 và 4 . Biết số học sinh lớp 3 là 119  
bạn . Hỏi trường tiểu học Hòa Bình có bao nhiêu học sinh lớp 4 ?

## Bài giải

.....  
.....  
.....



**ĐỀ SỐ 7)**

Họ và tên \_\_\_\_\_  
Lớp: 2\_\_\_\_\_

KIỂM TRA HỌC KỲ II NĂM HỌC 2014-2015  
MÔN TOÁN - LỚP 2

Bài làm

**Bài 1.** Đọc viết các số thích hợp ở bảng sau:

Đọc số	Viết số
Bảy trăm hai mươi ba	.....
Tám trăm mười lăm	.....
.....	415
.....	500

**Bài 2.**

> < =	?	457 <input type="checkbox"/> 500	248 <input type="checkbox"/> 265
		401 <input type="checkbox"/> 397	701 <input type="checkbox"/> 663
		359 <input type="checkbox"/> 556	456 <input type="checkbox"/> 456

**Bài 3.** Điền số thích hợp vào ô trống:

- a)  $3 \times 6 = \square$       b)  $24 : 4 = \square$       c)  $5 \times 7 = \square$       d)  $35 : 5 = \square$

**Bài 4.** Đúng ghi Đ, sai ghi S vào ô trống:

- a)  $1\text{dm} = 10\text{cm}$  ;      b)  $1\text{m} = 10\text{cm}$        ;      c)  $1\text{dm} = 100\text{cm}$  ; d)  $1\text{m} = 100\text{cm}$  ;

**Bài 5.** Đặt tính rồi tính:

532 + 225      354 + 35      972 - 430      586 - 42

.....

.....

.....

**Bài 6.** Có 35 quả cam xếp vào các đĩa, mỗi đĩa 5 quả. Hỏi xếp vào được mấy đĩa?

Bài giải

.....

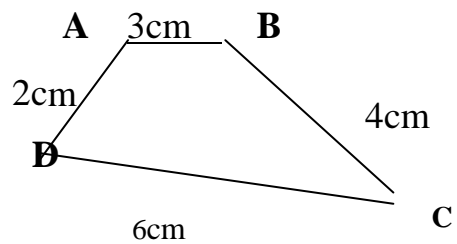
.....

.....

**Bài 7.** Cho hình tứ giác như hình vẽ

a) Tính chu vi của hình tứ giác ABCD.

b) Kẻ thêm 1 đoạn thẳng để được 1 hình tứ giác





.....  
.....1.

Tìm X : (1.5 điểm)

$$X \times 3 = 12$$

$$X : 5 = 5$$

.....  
.....  
.....

3. Viết các số 842 ; 965 ; 404 theo mẫu : (0.5 điểm)

$$\text{Mẫu : } 842 = 800 + 40 + 2$$

.....  
.....

4. Học sinh lớp 2A xếp thành 5 hàng, mỗi hàng có 6 học sinh. Hỏi lớp 2A có bao nhiêu học sinh ? (2 điểm)

**Giải**

.....  
.....  
.....  
.....

**ĐỀ SỐ 9)**

Phòng giáo dục và đào tạo:.....

Trường Tiểu học:.....

Đề kiểm tra định kì lần IV năm học 2014-2015

Môn : Toán      Lớp 2

Họ và tên:.....

Lớp :.....

Bài 1 : a, Sắp xếp các số sau theo thứ tự tăng dần : 724 , 192 , 853 , 358 , 446

b, Điền số thích hợp vào chỗ chấm

235;237;.....;.....;243.

426;436;.....;.....;.....

Bài 2 : Điền dấu >,< , =

428.....482

596.....612

129.....129

215+25.....240

Bài 3 : Đặt tính rồi tính

$238 + 527$

$963-377$

$125 + 356$

.....  
.....  
.....

Bài 4 : Một trường tiểu học có 561 học sinh . Trong đó số học sinh nam là 277 . Hỏi trường đó có bao nhiêu học sinh nữ ?

Bài giải

.....  
.....  
.....

Bài 5: Tìm các số có 2 chữ số . Biết Tổng 2 số là 11 tích là 30 . Tìm 2 số đó

.....  
.....  
.....  
.....

Bài 6 : Tìm y

$a, y + 256 = 123 + 336$

$b, y - 112 = 338-221$

.....  
.....

**ĐỀ SỐ 10)**

**Câu1: Viết số thích hợp vào chỗ chấm (1đ)**

431; .....; 433; .....; .....; .....; .....; 438

**Câu 2: Viết các số sau theo thứ tự từ lớn đến bé: (1đ)**

215; 671; 359; 498.

.....

**Câu 3: Đặt tính rồi tính: (2 đ)**

$532 + 245$

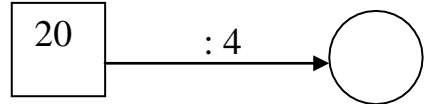
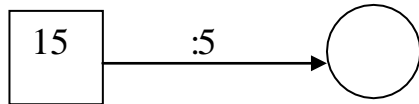
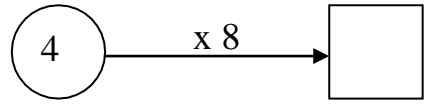
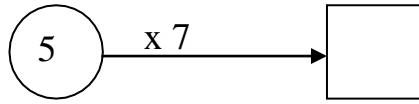
$351 - 46$

$972 - 430$

$589 - 35$

.....  
.....

Câu 4: Số ? (1đ)



Câu 5: Viết số thích hợp vào chỗ chấm: (1đ)

1dm = .....cm

1m = .....cm

5dm + 7dm = .....dm

12m - 8m = .....m

Câu 6: (1 đ) Cho 4 điểm A, B, C, D

a, Dùng thước nối A với B; B với D; D với C.

A .

. B

Tên đường gấp khúc vừa nối được là: .....

b, Cho AB= 5cm; BD= 6cm; DC= 7 cm

Tính độ dài đường gấp khúc đó.

C .

. D

Câu 7 : ( 2đ)

a, Đường từ nhà Hà đến công trường dài 350m, đường từ nhà Bình đến công trường dài hơn từ nhà Hà đến trường 600m. Hỏi đường từ nhà Bình đến công trường dài bao nhiêu mét?

b, Lớp em có 32 bạn, cô giáo chia đều thành 4 tổ. Hỏi mỗi tổ có bao nhiêu bạn?

**Câu 8:** Điền số có hai chữ số vào ô trống để được phép tính thích hợp: (1đ)

$$\square + \square = \boxed{121}$$

**ĐỀ SỐ 11)**

<b>PHÒNG GD&amp;ĐT :.....</b> Trường TH:..... Họ và tên HS: ..... Lớp:.....SBD ..... Phòng thi:.....Ngày KT:...../...../2015	<b>KIỂM TRA CUỐI HK II</b> <b>Môn: TOÁN – Lớp 2</b> Năm học 2014-2015	
	Chữ ký Giám thị	Số phách

**PHẦN I. Trắc nghiệm (3điểm)**

**Khoanh tròn vào chữ cái đặt trước câu trả lời đúng**

**Bài 1.**

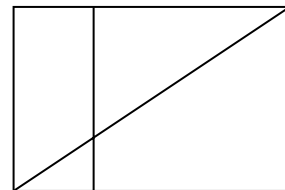
- a) Chín trăm hai mươi một viết là:  
 A. 921                      B. 912                      C.920
- b) Số liền trước số 342 là:  
 A. 343                      B. 341                      C. 340

**Bài 2.** Giá trị của chữ số 8 trong 287 là:

- A. 800                      B. 8                      C.80

**Bài 3.**

- a) Trong hình vẽ bên có mấy hình tam giác A.  
 2 B. 3 C. 4
- b) Trong hình bên có mấy hình chữ nhật A.  
 4 B. 3 C. 2



**Bài 4.** Thứ 3 tuần này là ngày 5 tháng 4, thứ 3 tuần sau là ngày mấy ?

- A.12                      B.9                      C.11

**Bài 5.** Số ?

- a) 910, 920, 930, ....., ....., 960
- b) 212, 213, 214, ....., ....., 217, 218

**Bài 6. Điền dấu thích hợp vào ô trống >, <, =.**

a)  $16\text{kg} + 9\text{kg}$              $33\text{kg} - 8\text{kg}$

b)  $200\text{cm} + 30\text{cm}$              $203\text{cm}$

**PHẦN 2. Tự luận (7điểm)**

**Bài 7. Đặt tính rồi tính.**

a)  $973 - 251$

b)  $342 + 251$

.....  
 .....  
 .....

**Bài 8. Tìm x biết**

a)  $X \times 3 = 12$

b)  $X : 5 = 8$

.....  
 .....  
 .....

**Bài 9. Tính chu vi hình tam giác có độ dài các cạnh là :13cm, 17cm, 24cm**

Bài giải

.....  
 .....  
 .....  
 .....  
 .....  
 .....  
 .....

**Bài 10. Lớp 2A có 32 học sinh xếp thành 4 hàng. Hỏi mỗi hàng có bao nhiêu học sinh ?**

Bài giải

.....  
 .....  
 .....  
 .....  
 .....  
 .....  
 .....



**ĐỀ SỐ 12)**

1. Khoanh vào chữ đặt trước câu trả lời đúng:

B) Các số 562; 625; 652 viết theo thứ tự từ bé đến lớn là:

- a. 562; 625; 652                      b. 625; 562; 652                      c. 652; 625; 562

B) Trong các số 265; 279; 257; 297; số lớn hơn 279 là:

- a. 265                                      b. 257                                      c. 297

2. Đúng ghi Đ, sai ghi S:

- a.  $38m + 27m =$                                        b.  $1m = 10dm$    
c.  $16cm : 4 =$                                        d.  $1000m =$

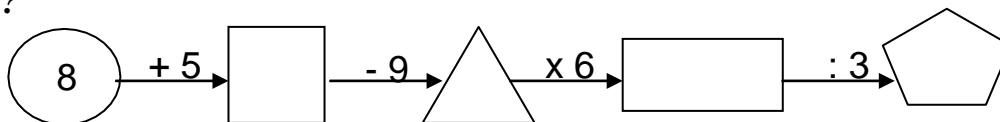
3. Viết tiếp vào chỗ chấm cho thích hợp:

- a. 211; 212; 213; .....; .....; 216; .....; 218; 219; .....  
b. 510; 515; .....; 525; 530; .....; .....

4. Nối mỗi số với cách đọc của số đó:

Tám trăm bảy mươi	400
Năm trăm bảy mươi	404
Bốn trăm linh bốn	875
Bốn trăm	578

5. Số ?



6. Điền dấu >, <, = vào ô trống:

a.  $600 + 30 + \square = 63$

c.  $100 \square 1000$

. **Đặt**  $30 : 5 : 3 \square 12$

d.  $400 \times 2 \square 600 + 200$

a.  $400 + 99$

b.  $764 -$

.....  
 .....  
 .....

.....  
 .....  
 .....

8. Tìm x:

a.  $400 + x = 200x$

b.  $295 - x = 180$

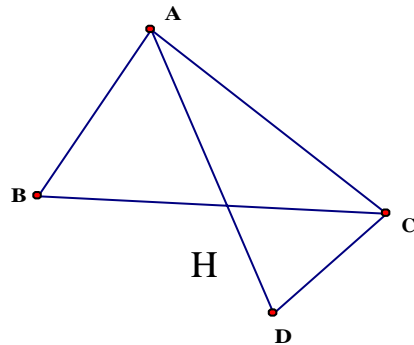
.....  
 .....  
 .....  
 .....

.....  
 .....  
 .....  
 .....

9. Hình bên có ..... hình tam giác

Viết tên các hình tam giác đó: .....

.....  
 .....



10. Đàn gà nhà Lan có 86 con, đã bán đi 29 con. Hỏi nhà Lan còn lại bao nhiêu con gà?

**Giải**

.....  
 .....  
 .....

**ĐỀ SỐ 13)**

1. Khoanh vào chữ đặt trước câu trả lời đúng:

A) Các số 543; 354; 435; viết theo thứ tự từ bé đến lớn là:

a. 543; 354; 435

b. 354; 435; 543

c. 435; 543; 354;

**B) Trong các số 265; 279; 257; 297 số bé hơn 265 là:**

a. 279

b. 257

c. 297

**2. Đúng ghi Đ, sai ghi S:**

a.  $48m + 47m =$

b.  $10dm = 1m$

c.  $32cm : 4 =$

d.  $2000m =$

**3. Viết tiếp vào chỗ chấm cho thích hợp:**

a. 311; 312; 313; .....; .....; 316; .....; 318; 319; .....

b. 512; 515; .....; .....; 524; .....; .....

**4. Nối mỗi số với cách đọc của số đó:**

Bảy trăm bảy mươi lăm

600

Năm trăm bảy mươi

104

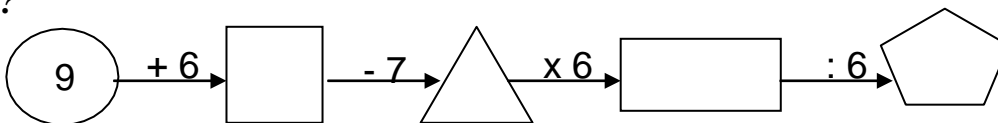
Một trăm linh bốn

775

Sáu trăm

579

**5. Số ?**



**6. Điền dấu >, <, = vào ô trống:**

a.  $900 + 10 +$

91

c.  $1000$

100

b.  $40 : 5 : 8$

2

d.  $400 +$

$400 \times 2$

**. Đặt tính rồi tính:**

a.  $700 + 55$

b.  $866 -$

8. Tìm  $x$  :

a.  $100 + x = 600$  :

.....  
.....  
.....

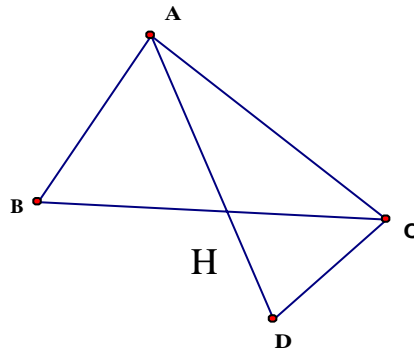
b.  $394 - x = 160$

.....  
.....  
.....

9. Hình bên có ..... hình tam giác

Viết tên các hình các hình tam giác đó:

.....  
.....



10. Đàn gà nhà Mai có 82 con, đã bán đi 23 con. Hỏi nhà Mai còn lại bao nhiêu con gà?

**Giải**

.....  
.....  
.....

**ĐỀ SỐ 14)**

**TRƯỜNG TIỂU HỌC:.....**  
**PHIẾU KIỂM TRA CHẤT LƯỢNG HỌC SINH GIỎI MÔN TOÁN LỚP 2**  
**NĂM HỌC: 2014- 2015**

**Bài 1:** (4đ)

Cho các số	Viết dãy tính đúng
1; 2; 5; 15; 20	$\square : \square \times \square + \square = \square$
1; 2; 3; 12; 17	$\square : \square \times \square - \square = \square$

**Bài 2:** (4đ) Điền số thích hợp vào chỗ chấm:

$$\begin{array}{r} 32\dots \\ + \underline{1\dots7} \\ 479 \end{array} \quad \begin{array}{r} \dots89 \\ - \underline{56\dots} \\ 1\dots6 \end{array} \quad \begin{array}{r} 95\dots \\ - \underline{\dots21} \\ 3\dots7 \end{array} \quad \begin{array}{r} 7\dots6 \\ + \underline{\dots34} \\ 1000 \end{array}$$

**Bài 3:**(5đ)

a) Tìm số nhỏ nhất có 3 chữ số mà có tổng bằng 20 .

.....  
.....

b) Hãy cho biết có bao nhiêu số có 3 chữ số mà chữ số hàng trăm là 5?

.....  
.....

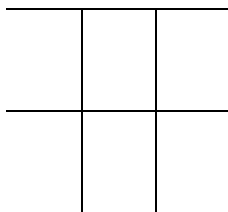
**Bài 4:**(3đ)

Lớp em xếp được 3 hàng còn thừa ra 2 bạn.Tính xem lớp em có bao nhiêu bạn? Biết rằng mỗi hàng xếp được 10 bạn.

Bài giải

.....  
.....  
.....

**Bài 5:**(3đ) Điền số thích hợp vào chỗ chấm:



.....hình tứ giác

(Lưu ý: Điểm trình bày: 1đ)

**Bài 1:** (2điểm)

a)Viết các số sau:

- Một trăm linh bảy .....; Bốn trăm mười lăm.....
- Chín trăm ba mươi tư.....; Tám trăm tám mươi lăm.....

b)Xếp các số sau: 807, 870 , 846 , 864 , 886

- Theo thứ tự từ bé đến lớn.....
- Theo thứ tự từ lớn đến bé.....

**Bài 2:** Tính nhẩm(2 điểm)

$3 \times 7 = \dots\dots\dots$ ;  $4 \times 8 = \dots\dots\dots$ ;  $20 : 2 = \dots\dots\dots$  ;  $400 + 300 = \dots\dots\dots$

$28 : 4 = \dots\dots\dots$ ;  $15 : 5 = \dots\dots\dots$ ;  $5 \times 6 = \dots\dots\dots$ ;  $800 - 500 = \dots\dots\dots$

**Bài 3:** Đặt tính rồi tính : (2 điểm)

$64 + 28$  ;  $94 - 36$  ;  $318 + 141$  ;  $784 - 403$

.....

.....

.....

**Bài 4 :** Tính : (1 điểm)

$24 + 16 - 18 = \dots\dots\dots$                        $25 : 5 \times 6 = \dots\dots\dots$

$= \dots\dots\dots$      $= \dots\dots\dots$

**Bài 5 :** (2 điểm) Bao ngô cân nặng 47 kg, bao gạo cân nặng hơn bao ngô 9kg.  
Hỏi bao gạo cân nặng bao nhiêu kg ?

.....

.....

.....

.....

**Bài 6 :** Tính tổng số bé nhất có 3 chữ số với số lớn nhất có 2 chữ số

.....

.....

.....

.....

**ĐỀ SỐ 16)**

Trường TH:.....

Thứ..... ngày..... tháng .....năm 2015

Họ Tên: .....

Kiểm tra chất lượng cuối năm học

Lớp 2.....

**Môn thi:** Toán

**I- PHẦN TRẮC NGHIỆM ( 3 điểm)**

**Bài 1**( 1 điểm) Khoanh tròn vào chữ cái đặt trước kết quả đúng

a) Trong rổ có 35 quả cam,  $\frac{1}{5}$  số cam trong rổ là:

- A. 5 quả      B. 7 quả      C. 6 quả      D. 8 quả

b) Bề dày của quyển sách khoảng 5..... Tên đơn vị cần điền vào chỗ chấm là:

- A. cm      B. mm      C. dm      D. m

**Bài 2** ( 1 điểm) Số gồm: 5 trăm, 1 chục và 0 đơn vị được viết là:

- A. 510      B. 501      C. 105      D. 150

**Bài 3** (1 điểm)  $5 \times 7 + 25 =$

- A. 50      B. 40      C. 60      D. 70

**II- PHẦN TỰ LUẬN ( 7 điểm)**

**Bài 1:** ( 2 điểm) Đặt tính rồi tính

$59 + 31$       ;       $345 + 244$       ;       $100 - 72$       ;       $674 - 353$

.....  
 .....  
 .....

**Bài 2:** (1 điểm)

$4 \times 6 + 16$

$20 : 4 \times 6$

.....  
 .....  
 .....

**Bài 3:** ( 1 điểm) Tìm X

$X \times 5 = 45 + 5$

$X - 18 = 24$

.....  
 .....  
 .....  
 .....

**Bài 4:** ( 1 điểm) Tính chu vi hình tam giác A, B, C biết độ dài các cạnh là:

$AB = 30 \text{ cm} ; BC = 15 \text{ cm} ; AC = 35 \text{ cm}$

.....  
 .....

**Bài 5:** ( 2 điểm) Bể nước thứ nhất chứa 865 lít nước. Bể thứ hai chứa ít hơn bể thứ nhất 300 lít nước. Hỏi bể nước thứ hai chứa bao nhiêu lít nước?

.....  
 .....  
 .....

**ĐỀ SỐ 17)**

**Bài kiểm tra định kì cuối học kì Ii**

**Năm học 2014 - 2015**

**Môn: Toán lớp 2**

**I- Phần trắc nghiệm:( 3 điểm).**

**Khoanh vào chữ cái đặt trước câu trả lời đúng**

**Câu 1:** Các số : 500; 279; 730; 158 được viết theo thứ tự từ lớn đến bé là:

- A. 500; 279; 730; 158  
B. 730; 500; 297; 158

- C. 158; 297; 500; 730  
D. 500; 730; 158; 297

**Câu 2:** Hà chơi ván cờ từ 8 giờ 15 phút đến 8 giờ 30 phút. Hỏi Hà chơi ván cờ hết bao nhiêu phút?

- A. 15 phút      B. 45 phút      B. 60 phút      D. 5 phút

**Câu 3:** Hình tam giác có độ dài các cạnh lần lượt là 1dm; 5cm; 7cm thì có chu vi là:

- A. 13cm      B. 26cm      C. 22cm      D. 13dm

**Viết vào chỗ chấm thích hợp:**

**Câu 4:** Viết số

- a) Sáu trăm chín mươi lăm:.....  
b) Tám trăm linh tư.....

**Câu 5:** Chọn **mm, cm, dm,** hay **m** viết vào chỗ chấm thích hợp

Bạn Nam lớp em cao 1.....15.....

**Câu 6:** Viết 3 số thích hợp vào chỗ chấm:

- a) 504; 506; 508;.....;.....;.....  
b) 711; 713; 715;.....;.....;.....

## II, Phần tự luận:( 7điểm)

**Câu 1:** Đặt tính rồi tính: (2 điểm)

$376 + 43$

$856 - 548$

$57 + 25$

$91 - 28$

**Câu 2:** Tính: (1điểm)

$45 m : 5 = .....$

$32 cm : 4 = .....$

$40 : 4 : 5 = .....$

$4 \times 9 + 6 = .....$

**Câu 3:** Tìm x (1 điểm)

$638 - x = 205$

$x - 253 = 436$





- A. 963                      B. 693                      C. 396                      D. 936

**Câu 3:** Cho biết số bị trừ là 485, số trừ là 72. Hiệu của hai số đó là:

- A. 417                      B. 413                      C. 457                      D. 557

**Câu 4:** Chu vi hình tam giác có độ dài các cạnh đều bằng 9cm là:

- A. 18 cm                      B. 27 cm                      C. 24 cm                      D. 9 dm

**II - Phần tự luận (7 điểm)**

**Câu 5:** Viết số thích hợp vào chỗ chấm: (1,0đ)

707; .....; 709; .....; .....; 712; .....; .....; 715

**Câu 6** (2,0đ)

a/. Đặt tính rồi tính:

$495 - 251$                        $465 + 172$

.....

.....

.....

.....

b/. Tính:

$4 \times 3 + 152$                        $20 \times 3 : 2$

.....

.....

.....

**Câu 7:** Một cửa hàng buổi sáng bán được 475l dầu, buổi chiều bán được nhiều hơn buổi sáng 124l dầu. Hỏi buổi chiều cửa hàng đó bán được bao nhiêu lít dầu?

(1,5đ)

.....

.....

.....

.....

**Câu 8:** Giải bài toán theo tóm tắt sau: (1,5đ)

Đoạn dây dài: 362 cm

Cắt đi:                      : 25 cm

Còn lại : ... cm ?

.....  
.....  
.....  
.....

**Câu 9:** Trong hình bên:

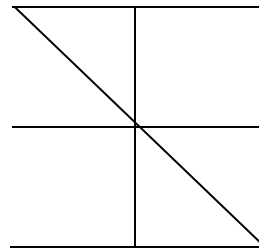
(1,0đ)

a. Có bao nhiêu hình vuông?

.....  
.....

b. Có bao nhiêu hình tam giác?

.....  
.....



**ĐỀ SỐ 19)**

Phòng GD&ĐT:.....  
Trường:.....

Cộng Hoà Xã Hội Chủ Nghĩa Việt Nam  
Độc Lập - Tự Do - Hạnh Phúc

**ĐỀ KIỂM TRA CUỐI HỌC KÌ II MÔN TOÁN LỚP 2**

Năm học: 2014 – 2015

(Thời gian: 40 phút không kể chép đề)

**ĐỀ BÀI:**

Bài 1: Tính nhẩm.

$2 \times 6 = \dots\dots$	$18 : 2 = \dots\dots$	$4 \times 6 = \dots\dots$	$10 : 5 = \dots\dots$
$3 \times 6 = \dots\dots$	$24 : 4 = \dots\dots$	$5 \times 7 = \dots\dots$	$20 : 4 = \dots\dots$

Bài 2: Đặt tính rồi tính.

$654 + 344$	$342 - 212$	$729 + 113$	$474 - 463$
.....	.....	.....	.....

Bài 3: So sánh

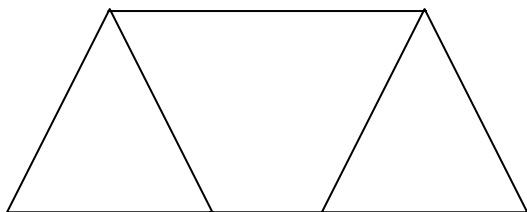
$<$ $>$ $=$	$302 \dots 310$	$321 \dots 298$
	$658 \dots 648$	$30 - 3 \dots 40 - 3$
	$599 \dots 597 + 2$	$1000 \dots 998 + 2$

Bài 4:

Một trường tiểu học có 265 học sinh nam và 234 học sinh nữ. Hỏi trường tiểu học đó có tất cả bao nhiêu học sinh ?

Bài 5:

Khoanh vào chữ cái đặt trước kết quả đúng.  
Số hình tứ giác có trong hình vẽ là ?



- A.1
- B.2
- C.3
- D.4

**ĐỀ SỐ 20)**

PHÒNG GD&ĐT..... TRƯỜNG TIỂU HỌC:.....	<b>ĐỀ KIỂM TRA ĐỊNH KỲ CUỐI KỲ II</b> <b>NĂM HỌC 2014-2015</b> <b>MÔN TOÁN LỚP 2</b>
---	--

**I. PHẦN TRẮC NGHIỆM:** (3 đ)

Khoanh vào chữ cái (A,B,C,D) đặt trước kết quả đúng.

**Câu 1:** Sáu trăm, bốn chục, bảy đơn vị hợp thành số nào?

- A. 467
- B. 674
- C. 647

**Câu 2:** Số liền sau số 539 là số nào?

- A. 538
- B. 540
- C. 541

**Câu 3:** Câu nào đúng?

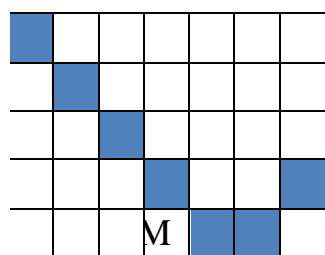
- A. Muốn tìm số bị chia ta lấy thương cộng với số chia.
- B. Muốn tìm số bị chia ta lấy thương trừ đi số chia.
- C. Muốn tìm số bị chia ta lấy thương nhân với số chia.

**Câu 4:** Tìm đáp số của bài toán:

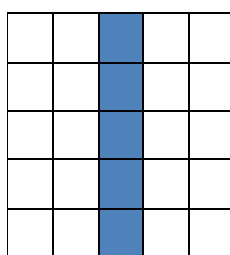
Lớp 2A có 36 học sinh chia đều thành 4 tổ học tập. Hỏi mỗi tổ có bao nhiêu học sinh?

- A. 7 học sinh
- B. 8 học sinh
- C. 9 học sinh

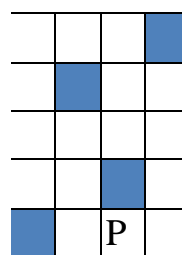
**Câu 5:** Hình nào đã tô màu  $\frac{1}{5}$  số ô vuông?



M



N



P

- A. Hình M
- B. Hình N
- C. Hình P
- D. Cả 3 hình M,N,P

**Câu 6:** Câu nói nào đúng giờ trong ngày?

- A. 18 giờ sáng
- B. 17 giờ chiều
- B. C. 9 giờ tối
- D. 10 giờ tối

**Câu 7:** Câu nào thích hợp?

- A. Chiếc bàn học sinh cao 3m
- B. Quãng đường dài 20dm

- C. Chiếc bút bi dài khoảng 15cm
- D. Chiếc thước kẻ dài khoảng 1km

**Câu 8:** Đồng hồ chỉ:

- A. 3 giờ 10phút
- B. 9 giờ 15 phút
- C. 10 giờ 15 phút
- D. 3 giờ 30 phút



**Câu 9:** Tờ giấy bạc 1000 đồng có thể đổi được mấy tờ giấy bạc 500 đồng?  
 A. 2 tờ                      B. 3 tờ                      C. 4 tờ                      D. 5 tờ

**Câu 10:** .....cm = 1m . Số thích hợp điền vào chỗ chấm là:  
 A. 10                      B. 100                      C. 1000

**Câu 11:** Viết số sau thành tổng các trăm, chục, đơn vị:  
 580 = .....

**Câu 12:**Viết số sau theo thứ tự từ lớn đến bé : 807 ; 870 ; 846 ; 864 ; 888 ; 880  
 .....

**B.Phần tự luận:**(7 điểm)

**Câu 1:** Đặt tính rồi tính (2điểm):

46 + 20	43 + 34	85 - 42	98 - 48
.....	.....	.....	.....
.....	.....	.....	.....
.....	.....	.....	.....

**Câu 2:** Điền số thích hợp vào chỗ chấm (1 điểm)

100 cm                      =.....m                      1m                      =.....mm  
 24cm – 4cm + 30cm=.....                      30cm + 7cm – 37cm =.....

**Câu 3:** Tìm x (1 điểm)

a)  $x - 34 = 49$                       b)  $x \times 4 = 36$

**Câu 4:** Nhà trường chia 50 bộ bàn ghế mới vào các lớp. Mỗi lớp được chia 5 bộ. Hỏi có bao nhiêu lớp được nhận bàn ghế mới ? (2 điểm)

**Câu 5:** Tính chu vi hình tam giác ABC, biết độ dài các cạnh là : AB = 35cm, BC =15 cm, AC = 45cm. (1 điểm)

**ĐỀ SỐ 21)**

PHÒNG GD&ĐT.....  
 TRƯỜNG **TIỂU HỌC** .....

Thứ                      ngày                      tháng năm 2015  
**KIỂM TRA CUỐI HỌC KÌ II**

**Môn: Toán**

Thời gian: 40 phút

(Không kể thời gian giao đề)

Họ và tên:.....  
 Lớp 2.....

**I. Trắc nghiệm khách quan ( 4 điểm )**

*\* Khoanh tròn vào chữ cái trước câu trả lời đúng:*

1. Số 801 đọc là:

A. Một trăm linh tám

B. Tám trăm linh một

C. Tám trăm mười

2. Số liền sau của 835 là:

A. 834

B. 838

C. 836

3. Một ngày có ... giờ?

A. 12 giờ

B. 24 giờ

C. 36 giờ

4. Kết quả phép tính  $68 + 24 - 12$  là:

A. 80

B. 92

C. 90

5. Kết quả phép tính  $6 \times 5 + 7$  là:

A. 72

B. 47

C. 37

6.  $1\text{km} = \dots \text{m}$ . Số thích hợp điền vào chỗ trống là:

A. 10m

B. 100m

C. 1000m

7. Hình tam giác có độ dài các cạnh đều bằng 8cm. Chu vi hình tam giác là:

A. 24cm

B. 16cm

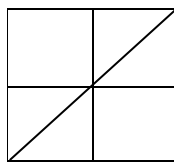
C. 20cm

8. Hình bên có bao nhiêu hình vuông?

A. 5

B. 7

C. 9



**II. Trắc nghiệm tự luận ( 6 điểm)**

1. Tính:

156

73

312

875

+ 38

- 39

+ 7

- 251

.....

.....

.....

.....

2. Tính:

$5 \times 6 - 11 = \dots\dots\dots$

$20 : 5 \times 6 = \dots\dots\dots$

= ..... = .....

3. Viết số thích hợp vào chỗ chấm:

a/ 95 ; 100 ; 105; ....

b/ 254 ; 244 ; 234 ; ....

4. Tìm  $x$ :

$$2 \times x = 19 - 7$$

5. Năm nay bố 36 tuổi, ông nhiều hơn bố 27 tuổi. Hỏi ông năm này bao nhiêu tuổi?

### **ĐỀ SỐ 22)**

Họ và tên:.....

Lớp 2...Trường Tiểu học .....

**Bài kiểm tra định kì cuối kì II**

**Môn toán- lớp 2**

**Thời gian 40 phút (Không kể thời gian giao đề)**

Ngày kiểm tra: ... tháng ... năm 2015

### **I. Phần trắc nghiệm ( 3 điểm)**

***Khoanh tròn vào chữ cái đặt trước câu trả lời đúng***

**Câu 1.** Số 251 đọc là:

- A. Hai trăm lăm mươi một.
- B. Hai trăm năm mươi một.
- C. Hai trăm năm một.

**Câu 2.** Số *Bảy trăm linh tư* viết là:

- A. 74
- B. 740
- C. 704

**Câu 3.** Chữ số 9 trong số 190 có giá trị bằng:

A. 90

B. 900

C. 9

**Câu 4.** Số lớn nhất trong các số 938; 983; 839; 893 là:

A. 983

B. 938

C. 893

**Câu 5.** Con lợn nặng 74kg. Con dê nhẹ hơn con lợn 19kg. Vậy con dê nặng:

A. 93kg

B. 55kg


C. 65kg

**Câu 6.** Đồng hồ chỉ mấy giờ ?

A. 12 giờ 10 phút

B. 2 giờ 12 phút

C. 2 giờ



## II. Phần tự luận (7 điểm)

**Câu 7** (3 điểm). Đặt tính rồi tính:

$$65 + 18$$

$$487 - 43$$

$$413 + 241$$

.....

.....

.....

**Câu 8** (1 điểm). Tính chu vi hình tam giác biết mỗi cạnh của tam giác đều bằng 5cm.

**Bài giải**

.....

.....

.....

.....

.....

.....

.....

.....

.....

.....



**Câu 9** (2 điểm). Quãng đường AB dài 167km. Quãng đường CD ngắn hơn quãng đường AB 15km. Hỏi quãng đường CD dài bao nhiêu ki-lô-mét ?

**Bài giải**

.....  
.....  
.....  
.....  
.....

**Câu 10** (1 điểm). Tìm số có hai chữ số biết hiệu của chữ số hàng chục và chữ số hàng đơn vị bằng 5 và tích của hai chữ số bằng 24.

.....  
.....  
.....  
.....  
.....  
.....  
.....

**ĐỀ SỐ 23)**

**I. Trắc nghiệm:**

**Khoanh tròn vào chữ đặt trước câu trả lời đúng**

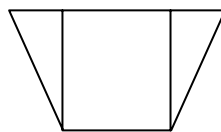
**Bài 1:** Trong các số 348; 483; 384; 834; 843 số lớn nhất là:  
A. 834                      B. 483                      C. 843

**Bài 2:** Số gồm : 1 trăm 7 chục 2 đơn vị được viết là:  
A. 127                      B. 172                      C. 127

**Bài 3:** Tờ giấy bạc 1000 đồng có thể đổi thành mấy tờ giấy bạc 500 đồng ?  
A. 1 tờ                      C. 172                      B. 2 tờ

**Bài 4:** Chu vi hình tam giác ABC có độ dài các cạnh:  $AB = 34 \text{ cm}$ ;  $BC = 20 \text{ cm}$ ;  $AC = 16 \text{ cm}$   
A. 70 cm                      B. 54 cm                      C. 60cm

**Bài 5:** Trong hình vẽ bên có:  
A. 2 hình tam giác và 3 hình tứ giác  
B. 2 hình tam giác và 4 hình tứ giác  
C. 2 hình tam giác và 2 hình tứ giác



## II. Tự luận

Bài 1: Đặt tính rồi tính

$254 + 235$

$46 + 64$

$768 - 523$

$80 - 54$

.....  
.....  
.....  
.....  
.....  
.....

Bài 2: Tìm x

$467 + x = 877$

$x - 214 = 612$

.....  
.....  
.....  
.....

$x : 5 = 3$

$x \times x \times 4 = 20$

.....  
.....  
.....  
.....

Bài 3 :

a) Có 40 kg gạo chia đều vào các túi, mỗi túi chứa 5 kg .Hỏi có bao nhiêu túi gạo ?

.....  
.....  
.....  
.....  
.....

b) Bể thứ nhất chứa được 768 lít nước, bể thứ hai chứa được ít hơn bể thứ nhất 235 lít. Hỏi bể thứ hai chứa được bao nhiêu lít nước ?

.....  
.....  
.....  
.....  
.....

Bài 4 : Viết phép chia có thương bằng số chia.

.....  
.....  
.....  
.....  
.....

**ĐỀ SỐ 24)**

Họ tên:..... Lớp:..... Trường:.....	<b>KIỂM TRA ĐỊNH KÌ CUỐI KÌ II</b> <i>Năm học: 2014-2015</i> <b>MÔN : TOÁN</b> Thời gian : 40 phút (không kể thời gian giao đề)
--	--

Bài 1: Tính nhẩm(2đ)

$2 \times 6 = \dots$	$3 \times 6 = \dots$	$27 : 3 = \dots$	$20 : 4 = \dots$
$15 : 3 = \dots$	$24 : 4 = \dots$	$4 \times 7 = \dots$	$5 \times 5 = \dots$

Bài 2: Đặt tính rồi tính(2đ)

$356 + 212$	$857 - 443$	$96 - 48$	$59 + 27$
.....	.....	.....	.....
.....	.....	.....	.....
.....	.....	.....	.....

Bài 3: Tính(2đ)

$5 \times 4 + 15 = \dots$	$30 : 5 : 3 = \dots$
$7 \text{ giờ} + 8 \text{ giờ} = \dots$	$24 \text{ km} : 4 = \dots$

Bài 3: Tìm x (1đ)

$X \times 5 = 35$	$x + 15 = 74$
.....	.....
.....	.....
.....	.....

Bài 4: Có 24 bút chì màu , chia đều cho 3 nhóm . Hỏi mỗi nhóm có mấy bút chì màu?(2điểm)

Bài giải

.....  
 .....  
 .....  
 .....  
 .....

Bài 6: Tìm một số biết khi lấy số đó nhân với 5 thì bằng 18 cộng 2.

.....  
 .....  
 .....  
 .....

**ĐỀ SỐ 25)**

TRƯỜNG TH:..... **KIỂM TRA ĐỊNH KỲ CUỐI KỲ II (2014 – 2015)**  
 Lớp: 2..... Môn: TOÁN Lớp 2  
 Họ và tên: ..... Thời gian: 40 phút ( không kể thời gian giao đề)

**Phần I:** 1/ Đúng ghi (Đ), sai ghi (S) vào (1đ).

a/ Số liền sau của 891 là 890  c/ Các số 289, 305, 350, 355 đã xếp theo thứ tự tăng dần.

b/ Số lớn nhất có ba chữ số là 999  d/ 900đồng – 200đồng = 700đồng

2/ Nối số với tổng thích hợp(1đ).

675	900 + 80 + 9	440	600 + 70 + 5
989	400 + 40	404	400 + 4

3/ Khoanh vào số lớn nhất (1đ). 542 ; 429 ; 529 ; 490 .

4/ Khoanh vào chữ trước kết quả đúng(1đ)

a/ .....mm = 1m      1km = .....m      A/ 100;      B/ 10;      C/ 1000  
 b/ 4 x 8 + 39 = ?      A/ 61;      B/ 71;      C/ 70

**Phần II:** 1/ 1/ đặt tính rồi tính: (2đ)

90 – 32	59 + 35	425 + 343	789 – 255
.....	.....	.....	.....
.....	.....	.....	.....
.....	.....	.....	.....

2/ Tìm x biết (1đ) a/ x - 27 = 63      b/ x : 4 = 5

.....  
 .....

3/ Tính (1đ)  $40 : 5 \times 4 = \dots\dots\dots$   
 $= \dots\dots\dots$

$3 \times 7 + 59 = \dots\dots\dots$   
 $= \dots\dots\dots$

4/ Bể thứ nhất chứa 885l nước, bể thứ hai chứa ít hơn bể thứ nhất 215l nước. Hỏi bể thứ hai chứa bao nhiêu lít nước? (1đ)

**Bài giải**

.....  
 .....  
 .....

5/ Tính chu vi hình tứ giác MNPQ có độ dài mỗi cạnh là 5dm (1đ)

**Bài giải**

.....  
 .....  
 .....

**ĐỀ SỐ 26)**

Họ và tên:..... Lớp: 2....Trường T H	<b>ĐỀ KIỂM TRA CUỐI HKII</b> <b>NĂM HỌC: 2014- 2015</b> <b>MÔN: TOÁN</b>
---	--

**BÀI 1:** Tính (3điểm)


$\begin{array}{r} 925 \\ - 420 \\ \hline \end{array}$	$\begin{array}{r} 995 \\ - 85 \\ \hline \end{array}$	$\begin{array}{r} 48 \\ + 15 \\ \hline \end{array}$	$\begin{array}{r} 63 \\ - 17 \\ \hline \end{array}$	$\begin{array}{r} 503 \\ + 354 \\ \hline \end{array}$	$\begin{array}{r} 732 \\ + 55 \\ \hline \end{array}$
---	--	---	---	---	--

**BÀI 2:** Tìm y ( 3 điểm)

$y + 300 = 800$	$y - 500 = 200$	$600 - y = 300$
.....	.....	.....
.....	.....	.....
.....	.....	.....

**BÀI 3:** Số? ( 1 điểm)



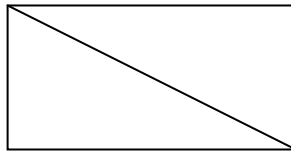


**BÀI 3:** (2 điểm) Khối lớp hai có 102 học sinh. Khối lớp ba có 127 học sinh. Hỏi cả hai khối có bao nhiêu học sinh?

Bài giải:

.....  
 .....  
 .....

**BÀI 4:** ( 1điểm) Kẻ thêm đoạn thẳng để được 8 hình tam giác.



**ĐỀ SỐ 27)**

Họ và tên :.....	KIỂM TRA ĐỊNH KÌ CUỐI KÌ II Năm học: 2014 -2015 MÔN: TOÁN LỚP 2
Lớp:.....Trường.....	

Bài 1: Tính nhẩm (2đ)

$5 \times 9 = \dots\dots\dots$       $28 : 4 = \dots\dots\dots$       $3 \times 7 = \dots\dots\dots$       $400 + 500 = \dots\dots\dots$   
 $3 \times 8 = \dots\dots\dots$       $35 : 5 = \dots\dots\dots$       $32 : 4 = \dots\dots\dots$       $800 - 200 = \dots\dots\dots$

Bài 2:(2đ)

- a) Viết số thích hợp vào chỗ chấm:  
 $2m = \dots\dots dm$  ;  $1m = \dots\dots cm$  ;  $1km = \dots\dots m$  ;  $8cm = \dots\dots mm$   
 b) Xếp các số sau : 348 , 843 , 328 , 238, 838 theo thứ tự từ bé đến lớn:

.....

Bài 3: Đặt tính rồi tính (2đ)

$47 + 39$  ;      $975 - 352$  ;      $82 - 35$  ;      $243 + 526$   
 .....  
 .....  
 .....  
 .....

Bài 4: Điền dấu >, <, = (1đ)

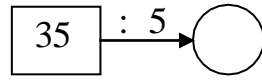
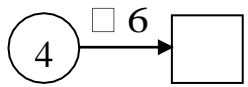
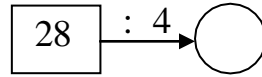
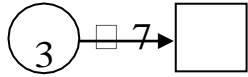
$492 \dots\dots 429$  ;  $376 \dots\dots 673$  ;  $4 \times 7 \dots\dots 32$  ;  $654 \dots\dots 600 + 54$

Bài 5: (2đ) Hoa cân nặng 32kg, Mỹ cân nặng hơn Hoa 9kg. Hỏi Mỹ cân nặng bao nhiêu ki-lô-gam?



Số liền trước	Số đã cho	Số liền sau
.....	786	.....
.....	324	.....

**Bài 3: Số?**



**Bài 4: Đặt tính rồi tính:**

$$832 + 152$$

.....  
 .....  
 .....  
 .....  
 .....

$$639 + 23$$

.....  
 .....  
 .....  
 .....  
 .....

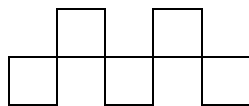
$$592 - 222$$

.....  
 .....  
 .....  
 .....  
 .....

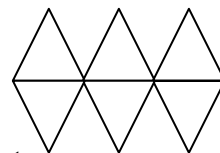
$$395 - 34$$

.....  
 .....  
 .....  
 .....  
 .....

**Bài 5 : Tô màu :**



a.  $\frac{1}{5}$  số hình vuông



b.  $\frac{1}{3}$  số hình tam giác

**Bài 6:**



a. Một trường tiểu học có 364 học sinh trai và 235 học sinh gái. Hỏi trường tiểu học đó có bao nhiêu học sinh?

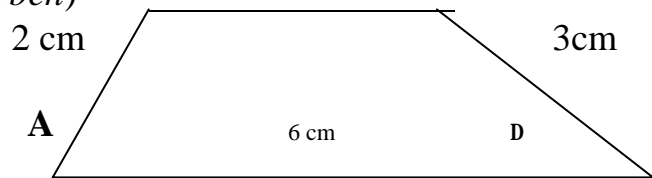
Bài giải

b. Có 27 bút chì màu chia đều cho 3 nhóm. Hỏi mỗi nhóm có bao nhiêu bút chì màu?

Bài giải

**Bài 7:** Cho hình tứ giác ABCD( như hình bên)

Tính chu vi hình tứ giác.



**ĐỀ SỐ 29)**

**ĐỀ KIỂM TRA CUỐI HỌC KỲ II**

**Khối :2**

**Môn : Toán**

**Thời gian : 40 phút**

**Ngày thi :**

**I/ Trắc nghiệm : (6 điểm)**

- Khoanh tròn vào chữ cái trước câu trả lời đúng :

**Câu 1 :** Kết quả của phép nhân  $3 \times 8$  là :

A . 21                      B . 24                      C . 32

**Câu 2 :** Kết quả của phép chia  $32 : 4$  là :

A . 9                      B . 7                      C . 8

**Câu 3:** Kết quả của phép tính  $586 - 253$  là :

A . 323                      B . 333                      C . 339

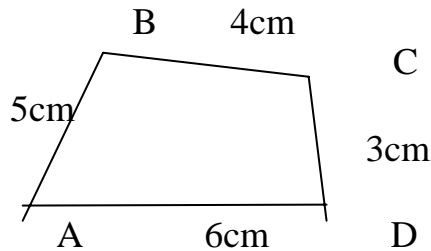
**Câu 4 :** Số lớn nhất trong các số 385 , 378 , 391 là :

A . 391                      B . 378                      C . 385

**Câu 5 :** Trong các cách viết dưới đây , cách viết đúng là :

A . 1m = 10cm                      B . 1m = 100mm                      C . 1m = 10dm

**Câu 6 :** Chu vi hình tứ giác ABCD là :



A . 17cm                      B . 18cm                      C . 19cm

II/Bài tập : (4 điểm)

**Câu 1 :** Tìm x ( 2 điểm )

a/  $x \times 3 = 27$

b/  $x : 5 = 4$

**Câu 2 :** Bài toán ( 2 điểm )

Đội Một trồng được 350 cây , đội Hai trồng được ít hơn đội Một 140 cây. Hỏi đội Hai trồng được bao nhiêu cây ?

.....  
.....  
.....  
.....  
.....  
.....  
.....

**ĐỀ SỐ 30:**

**Bài 1:** (4đ) a).Viết các số có 2 chữ số mà chữ số hàng đơn vị là 4:

b)Tính tổng của số lớn nhất và số bé nhất trong các số vừa viết:

c)Viết tiếp 3 số vào dãy: 19, 16, 13, ....., ....., .....

**Bài 2:** ( 4đ) Số bé nhất có 3 chữ số khác nhau là: .....

Điền số thích hợp vào ô trống:

6 +  2

80 -  = 56 -

9  +  = 92

**Bài 3:** (3đ)

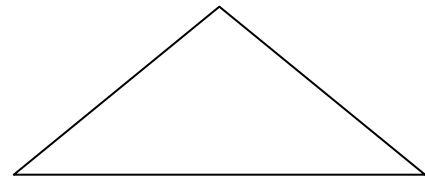
a. Em học bài lúc 7 giờ tối.Lúc đó là .....giờ trong ngày.

b.Một tháng nào đó có ngày chủ nhật là 17.Vậy ngày chủ nhật đầu tiên của tháng đó là ngày.....

**Bài 4:**(3đ): An và Bình chia nhau 18 nhãn vở.An lấy số nhãn vở nhiều hơn Bình và số nhãn vở của An nhỏ hơn 11.Vậy An đã lấy  nhãn. Bình đã lấy  nhãn vở

**Bài 5 :** (4đ): Lan và Hà đi câu cá.Lan câu được số cá bằng số liền sau số bé nhất có 1 chữ số. Tổng số cá của hai bạn là số lớn nhất có 1 chữ số. Hỏi mỗi bạn câu được mấy con cá?

**Bài 6 :** (2đ) Kẻ thêm 3 đoạn thẳng để hình vẽ có thêm 4 hình tam giác.



**ĐỀ SỐ 31:**

**Bài 1:** (2 điểm)

- Với 3 chữ số 4, 0, 6. Viết tất cả các số có 2 chữ số

- Viết tất cả các số có 2 chữ số mà chữ số hàng chục kém chữ số hàng đơn vị là 2

**Bài 2:**

a) Điền dấu + ; - vào ô vuông ( 2 điểm)

90  80  30  40  20 = 100

16  24  20 = 20

b) Tính nhanh

11 + 28 + 24 + 16 + 12 + 9

27 + 45 - 27 - 45

**Bài 3:** ( 3 điểm)

tìm 1 số biết rằng số đó cộng với 28 rồi cộng với 17 thì được kết quả là 82

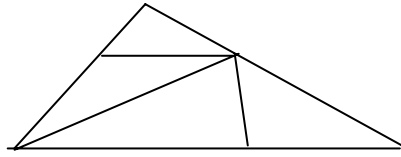
**Bài 4:** (2 điểm) Điền số thích hợp vào  sao cho tổng số ở 3 ô liền nhau = 49

<input type="text"/>	<input type="text"/>	25	<input type="text"/>	8	<input type="text"/>	<input type="text"/>	<input type="text"/>	<input type="text"/>	<input type="text"/>	<input type="text"/>	<input type="text"/>
----------------------	----------------------	----	----------------------	---	----------------------	----------------------	----------------------	----------------------	----------------------	----------------------	----------------------

**Bài 5:** Hình bên có (1 điểm)

hình tam giác

hình tứ giác



### ĐỀ SỐ 32:

#### ĐỀ BÀI

**Bài 1:** Cho các số: 0, 1, 3, 5

- Lập các số có 2 chữ số khác nhau từ các số đã cho.
- Tính tổng các số chẵn lập được ở trên.

**Bài 2:** Viết số thích hợp vào

a. 1, 3, 4, 7, 11,  ,  ,

b

$$\boxed{\phantom{0}} \xrightarrow{\times 3} \boxed{\phantom{0}} \xrightarrow{+ 6} \boxed{\phantom{0}} \xrightarrow{: 4} \phantom{0}} \phantom{0} \xrightarrow{- 2} \boxed{7}$$

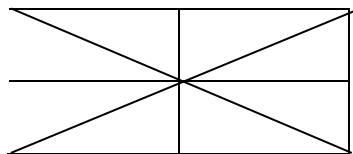
#### **Bài 3:**

- An sinh nhật ngày nào ? mà cứ 4 năm mới được tổ chức sinh nhật 1 lần ?
- Nếu Nam cho Hà 4 viên bi thì số bi của 2 bạn bằng nhau, và mỗi bạn có 18 viên bi. Hỏi trước khi cho Nam có bao nhiêu viên bi ? Hà có bao nhiêu viên bi ?

**Bài 4:** Hình vẽ bên

- Có .....hình tam giác

- Có ..... hình tứ giác



#### **Bài 5:**

Trong một phép trừ có hiệu bằng số trừ và số bị trừ hơn số trừ 27 đơn vị. Hỏi số bị trừ sẽ bằng bao nhiêu ? Hãy viết phép trừ đó ?

## ĐỀ SỐ 33:

### **Bài 1**(6 điểm).

- Viết số chẵn lớn nhất có hai chữ số mà tổng hai chữ số là 13
- Viết số lẻ nhỏ nhất có hai chữ số mà chữ số hàng chục gấp 3 lần chữ số hàng đơn vị
- Viết tiếp vào ô trống: 0,1,1,2,4,7, , ,

### **Bài 2:** (4 điểm) Cho các chữ số: 0,1,2,3;

- Viết các số có hai chữ số khác nhau từ các số trên và sắp xếp các số đó theo thứ tự lớn dần:
- Viết số lớn nhất ở trên dưới dạng tích của một số với 4:

### **Bài 3:** (3 điểm).

- Từ 10 giờ sáng đến 2 giờ chiều, kim dài và kim ngắn của đồng hồ gặp nhau..... lần.
- Hôm nay là thứ hai, ngày 14 tháng 4. Còn 8 ngày nữa là sinh nhật của Lan. Vậy Lan sinh nhật vào thứ..... ngày.....tháng 4.

### **Bài 4:** (4 điểm).

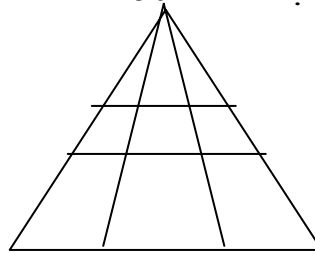
Tổng số tuổi của mẹ và con nhiều hơn tuổi con là 50 tuổi. Mẹ hơn con 27 tuổi. Tính số tuổi của mỗi người.

### **Bài 5:** ( 3 điểm).

Hình vẽ bên có:

.....hình tam giác.

.....hình tứ giác.



## ĐỀ SỐ 34:

### **Bài 1**( 4 điểm ) : Điền số thích hợp vào

$$13 + 4 = \square - 13$$

$$\square - 7 - 1 > 10$$

$$12 + 24 < \square - 13 < 88 - 50$$

$$87 - 7 - \square = 40$$

### **Bài 2**( 3 điểm ) : Khoanh tròn những số có thể điền vào

$$3 + 12 - 4 < \square - 5 < 15 \quad \text{các số là : 12,13,14, 15, 16, 17, 18.}$$

$13 + 6 < \square + 11$

các số là: 1, 2, 3, 4, 5, 6, 7, 8, 9, 10.

**Bài 3** ( 3 điểm ) a, Viết các số có 2 chữ số mà hàng đơn vị là số liền sau của số chục.

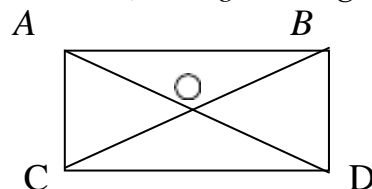
b, Viết các số có 2 chữ số mà tổng là số bé nhất có hai chữ số.

**Bài 4** ( 3 điểm ) : Tháng này Bình được rất nhiều điểm 10. Bình khoe với mẹ, nếu con cố gắng thêm 5 điểm mười nữa thì con sẽ được 30 điểm mười . Hỏi Bình được mấy điểm mười ?

**Bài 5** ( 2 điểm ) : Mai làm bài và học bài lúc kim giờ chỉ vào số 7. Mai học xong và đi ngủ sau 2 giờ. Hỏi lúc Mai đi ngủ kim giờ chỉ vào số mấy ?

**Bài 6** ( 4 điểm ) Hình bên có :

? hình tam giác, ? đoạn thẳng. Kể tên các đoạn thẳng



### ĐỀ SỐ 35:

**Bài 1:** Cho các số 1, 0, 4

- Viết các số có 2 chữ số từ các chữ số trên.
- Xếp các số vừa viết được theo thứ tự bé dần.

**Bài 2:** Điền dấu +, - vào  $\square$

$11 \square 2 \square 9 \square 10 = 10$

$18 \square 9 \square 3 \square 5 = 1$

**Bài 3:**

Điền các số vào ô trống sao cho tổng 3 ô liền nhau bằng 70.

		16		25				
--	--	----	--	----	--	--	--	--

**Bài 4:** Khoanh tròn vào các số có thể điền vào  $\square$  thoả mãn

$17 + 5 < 7 + \square + 5 < 90 - 65$

Các số là: 10, 11, 12, 13.

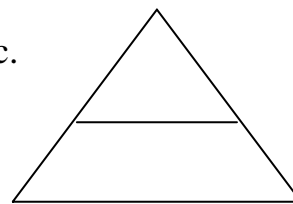
**Bài 5:**

a/ Tìm x  $x + 15 = 39 + 41$

b/ Hiệu 2 số là số lẻ nhỏ nhất có 2 chữ số. Biết số trừ bằng hiệu số. Tìm số bị trừ.

**Bài 6:** Số kẹo của Lan là số nhỏ nhất có 2 chữ số giống nhau. Lan cho Hoa số kẹo là số chẵn nhỏ nhất có 2 chữ số. Hỏi Lan còn bao nhiêu cái kẹo?

**Bài 7:** Kẻ thêm 1 đoạn thẳng để hình dưới có 3 tam giác, 3 tứ giác.



### ĐỀ SỐ 36:

**Bài 1:**

1/ Cho các số : 3, 0, 5, 2

a/ lập các số có hai chữ số khác nhau

b/ Tính tổng các số chẵn chục vừa lập được ở trên

2/ Điền các số thích hợp vào ô trống sao cho tổng các số ở ba ô liền nhau đều bằng 100

		23		31				
--	--	----	--	----	--	--	--	--

**Bài 2:**

1/ Tìm x biết x là số có một chữ số.

a/  $2 + x > 8$

b/  $7 - x < 3$

2/ Điền số vào chỗ chấm.

a/  $4 \times \dots = 32$

b/ .... : 2 + .... = 36

c/ 17 < .... x 2 < 19

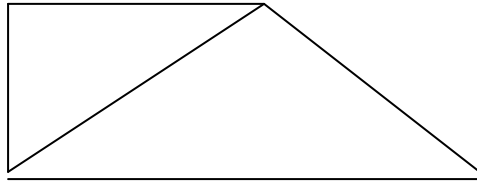
**Bài 3:** Dũng có 18 viên bi gồm các loại: xanh, đỏ, tím, vàng. Trong đó bi xanh, bi đỏ, bi tím mỗi loại có 4 viên, còn lại là bi vàng. Hỏi Dũng có mấy viên bi vàng ?

**Bài 4:** Thứ hai tuần này là ngày 12 tháng 3 vậy

a/ Thứ hai tuần sau là ngày mấy?

b/ Thứ hai tuần trước là ngày mấy ?

**Bài 5:** Cho hình vẽ bên, hãy kẻ thêm một đoạn thẳng để có một hình chữ nhật và 4 hình tam giác.



**ĐỀ SỐ 37:**

**Bài 1: (4 đ).** 1, Viết số bé nhất có 3 chữ số.

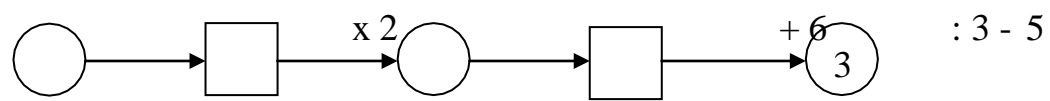
2, Viết số lớn nhất có 3 chữ số.

3, Viết số có 2 chữ số mà chữ số hàng đơn vị gấp 2 lần chữ số hàng chục.

**Bài 2 (5 đ)** a, Điền chữ số thích hợp vào ô trống:

$\begin{array}{r} \square \\ + \square 6 \\ \hline \end{array}$	$\begin{array}{r} \square \\ - \square 2 \\ \hline \end{array}$	$\begin{array}{r} \square \\ + \square 7 \\ \hline \end{array}$	$\begin{array}{r} \square \\ - \square \\ \hline \end{array}$	$\begin{array}{r} \square \\ \square 3 \\ \hline \end{array}$	$\begin{array}{r} \square \\ \square 4 \\ \hline \end{array}$	$\begin{array}{r} \square \\ \square 3 \\ \hline \end{array}$
7	3	$\square$	8	$\square$	8	6
						1
						4

b, §iÒn sè?



**Bài 3(3đ)**

a, Lan sinh vµo ngµy mµ cø 4 n'Ìm Lan míi ®•íc sinh nhËt ®óng ngµy mét lÇn ?

b, Thø hai tuÇn nµy lµ ngµy 2 th,ng 4. Háit thø n'Ìm tuÇn sau n÷a lµ ngµy nµo ?

**Bài 4(5đ)**

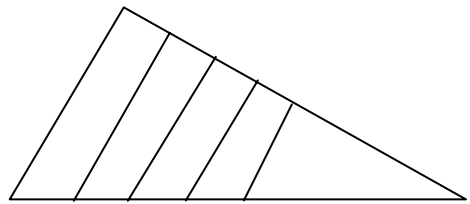
Lan vµ Hµ cũ mét sè que tÝnh. Lan cho Hµ 5 que tÝnh n'Ìn sè que tÝnh cũ hai b'Ìn b»ng nhau vµ mçi b'Ìn cũ 20 que tÝnh. Háit tr'íc khi cho, mçi b'Ìn cũ bao nhi'au que tÝnh ?

**Bài 5 (3đ).** Hình vẽ bên có:

- .....hình tam giác.
- .....hình tứ giác.

**ĐỀ SỐ 38:**

**Bài 1:** (6 điểm)



1, Cho các chữ số 0, 1, 3, 5.

a. Các số có hai chữ số khác nhau từ các số trên

b. Tính tổng của số lớn nhất và số nhỏ nhất trong các số vừa tìm được.

2, Viết tiếp 3 số thích hợp vào ô trống.

1; 2; 3; 5; 8; ; ; .

**Bài 2:** (4 điểm).

1, Viết tất cả các số có hai chữ số mà tổng hai chữ số của mỗi số bằng 11.

2, Điền dấu +; - ; = thích hợp vào ô trống.

37  28  5  4      37  28  5  4

37  28  5  4

**Bài 3:** (3 điểm)

Có hai thùng dầu đựng dầu, thùng thứ nhất chứa 51 lít dầu. Nếu đổ từ thùng thứ nhất sang thùng thứ hai 15 lít dầu thì số dầu hai thùng bằng nhau. Hỏi lúc đầu thùng thứ hai chứa bao nhiêu lít dầu?

**Bài 4:** (4 điểm)

Hình vuông có 9 ô, mỗi ô viết một trong các số từ 0 đến 8.

Hãy điền các ô bị xoá, biết rằng tổng các số trên

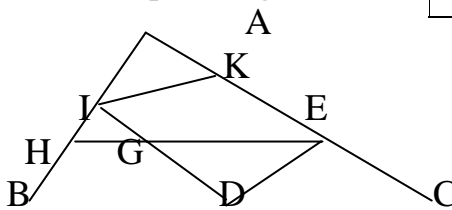
cùng một hàng, một cột, một đường chéo đều có kết quả bằng nhau.

	4	

**Bài 5:** (3 điểm) Cho hình vẽ sau:

a, Hình vẽ bên có:.....tứ giác.

b, Hãy kể tên các hình tứ giác đó.....



### ĐỀ SỐ 39:

**Bài 1 :** (6 đ )

1, Cho các chữ số : 0,1,2,3.

a, Lập các số có hai chữ số khác nhau từ các chữ số trên .

b, Tính tổng các số lớn nhất có hàng chục là 1,2,3; vừa viết được

2, Viết tiếp 3 số thích hợp vào chỗ chấm 1, 2, 3, 5, 8, ....., ....., .....

**Bài 2 (5 đ)**

1: Tổng lớn nhất của hai số có một chữ số là

Tổng bé nhất của số có một chữ và số có hai chữ số là

2, Thứ hai tuần này là ngày 19 tháng 3. vậy ;

Thứ hai tuần trước là ngày .....

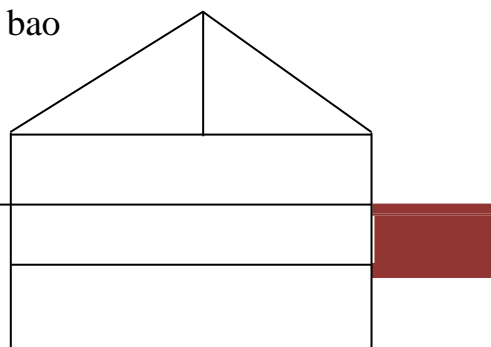
Thứ hai tuần sau là ngày .....

**Bài 3:** (5điểm)

Nếu Lan cho Nga 12 nhãn vở thì số nhãn vở của hai bạn bằng nhau và mỗi bạn có 21 nhãn vở. Hỏi trước khi cho Lan có bao nhiêu nhãn vở, Nga có bao nhiêu nhãn vở? Nga có bao nhiêu nhãn vở.

**Bài 4:** (4điểm)

1; Hình bên có .....hình tam giác





Có.....hình tứ giác.

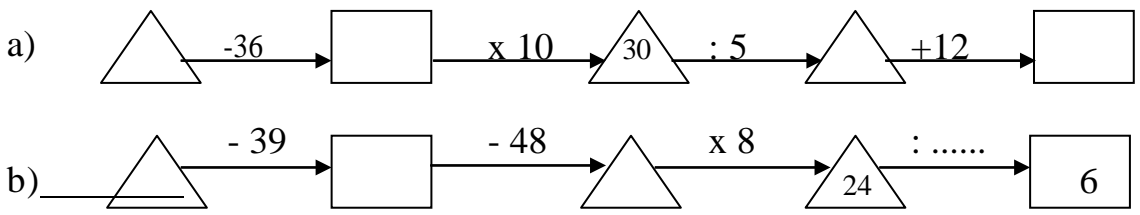
2; Hãy kẻ thêm một đoạn thẳng để hình bên có 7 hình tam giác .

**ĐỀ SỐ 40:**

**Bài 1: (3 điểm)**

- a) Số liền trước của 223 là .....,Số liền trước của a là....., Số liền trước của  $m + 1$  là:.....
- b) Số liền sau của 223 là ....., Số liền sau của a là....., Số liền sau của  $m + 1$  là:.... .....
- c) Viết tiếp 3 số vào dãy số sau: 3, 6, 9, 12,....., ....., .....
- 40, 36, 32, 28, ....., ....., .....

**Bài 2: (6 điểm)** Sè ?



**Bài 3: (3 điểm)**

Cho hai số có 3 chữ số

a) Hai số đó có cùng số trăm và số chục. Nhưng các số đơn vị hơn kém nhau 5 đơn vị. Hai số đó hơn kém nhau..... đơn vị.

Ví dụ:.....

b) Hai số đó cùng số chục và số đơn vị nhưng hai số trăm hơn kém nhau 3 đơn vị. Hai số đó hơn kém nhau..... đơn vị.

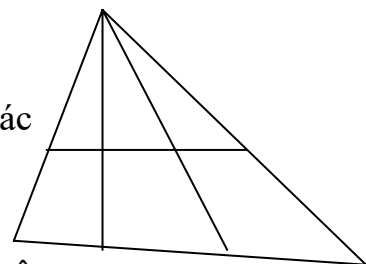
Ví dụ:.....

**Bài 4: (5 điểm)**

Hà có 40 viên bi gồm hai màu xanh và đỏ. Hà cho Tú 14 viên bi xanh thì Hà còn 12 viên bi xanh. Hỏi Hà có bao nhiêu viên bi đỏ?

**Bài 5: (3 điểm)**

Hình vẽ dưới đây có? đoạn thẳng,? hình tam giác,? hình tứ giác



**ĐỀ SỐ 41:**

**Bài 1:** (3 điểm) Cho các chữ số: 0,2,3,5.

- a) Viết các số chẵn có hai chữ số khác nhau từ các chữ số trên.
- b) Viết các số lẻ có hai chữ số từ các chữ số trên.

**Bài 2:** (5 điểm)

- 1) Hai số có tổng là 73. Nếu thêm vào một số hạng 27 đơn vị và giữ nguyên số hạng kia thì tổng mới là bao nhiêu? ( Viết cả phép tính).
- 2) Viết các số có hai chữ số mà chữ số hàng chục gấp 3 chữ số hàng đơn vị.

3) Điền số thích hợp vào ô trống để khi cộng 4 số ở 4 ô liên nhau bất kì đều có tổng là 35.

7		11	8				
---	--	----	---	--	--	--	--

**Bài 3:** (5 điểm)

1) Tính nhanh:

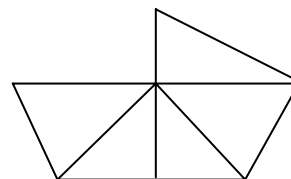
$$19 + 27 + 21 - 17$$

$$2 - 4 + 6 - 8 + 10 - 12 + 14$$

2) Thứ ba đầu tiên của tháng tư là ngày mùng 3. Hỏi các ngày thứ ba tiếp theo của tháng tư là những ngày nào?

**Bài 4:** (3 điểm) Mẹ mua về 25 quả trứng gà và một chục quả trứng vịt. Mẹ biếu bà 13 quả. Hỏi cả hai loại mẹ còn bao nhiêu quả trứng?

**Bài 5:** Hình bên có: ? đoạn thẳng, ? Tam giác. ? Tứ giác.



**ĐỀ SỐ 42:**

**Bài 1:** ( 4 điểm )

a) Viết tất cả các chữ số có hai chữ số mà tổng hai chữ số của số đó bằng số nhỏ nhất có hai chữ số. b) Tính tổng các số lập được ở trên

**Bài 2 :** ( 5 điểm )

1. Tìm x

a)  $X \times 2 \times X = 8$

b)  $X : 2 \times X = 8$

2. Tính nhanh

a)  $10 - 9 + 8 - 7 + 6 - 5 + 4 - 3 + 2 - 1$

b)  $1 + 3 + 5 + 7 + 9 + 10 + 8 + 6 + 4 + 2 + 0$

**Bài 3 :** ( 6 điểm )

1. Năm nay kỉ niệm ngày quốc tế lao động 1-5 vào thứ 3

Năm nay kỉ niệm ngày thành lập đội 15-5 vào thứ .....

Năm nay kỉ niệm ngày sinh nhật Bác 19-5 vào thứ .....

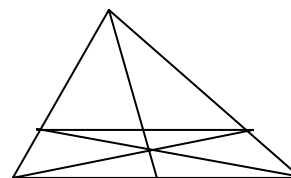
2. Hoa, Mai, Huệ cùng gấp thuyền được tất cả 60 chiếc. Số thuyền của Hoa ít hơn số thuyền của Huệ là 3 chiếc. Số thuyền của Hoa và Mai cộng lại được 37 chiếc. Hỏi mỗi bạn gấp được bao nhiêu chiếc thuyền ?

**Bài 4 :** ( 4 điểm )

Hình vẽ bên có :? hình tam giác, ? hình tứ giác

**Bài 5 :** ( 1 điểm )

Hiệu lớn nhất của hai số có hai chữ số khác nhau là bao nhiêu ?



**ĐỀ SỐ 43:**

**BÀI 1:**a/ Viết các số có hai chữ số mà chữ số hàng chục kém chữ số hàng đơn vị là 4:

b/ Tìm hai số khi biết tổng của chúng bằng 8 và hiệu tích của chúng bằng 0.

**BÀI 2:** a/ Viết mỗi biểu thức sau thành tích hai thừa số;

$4 \times 3 + 4 \times 2 = \dots\dots\dots$

$3 \times 5 + 3 = \dots\dots\dots$

b/Điền số thích hợp vào ô trống:

: 5 + 32 = 32

27 x  + 14 = 41

$$35 : \square - 17 = 18$$

$$\square \times 12 + 43 = 43$$

**BÀI 3:** a/ Tìm X                      X x 5 = 12 + 18

$$X + X + X - 12 = 15$$

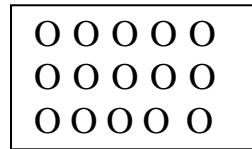
b/ Viết số x bé nhất khi  $45 < X - 6 < 58$

**BÀI 4:** An có một số vở , An viết hết 7 vở, còn lại 8 vở chưa viết. Hỏi An có bao nhiêu quyển vở?

b/ Tùng có một số kẹo , Tùng cho anh 2 chiếc thì số kẹo hai anh em bằng nhau. Vậy Tùng hơn anh.....cái kẹo, vì .....

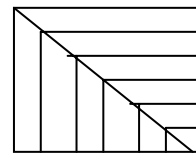
**BÀI 5:**

a/Gạch 2 gạch vào  $\frac{1}{3}$  số hình tròn trong



hình vẽ , và gạch 1 gạch vào  $\frac{1}{5}$  số

hình tròn bên trái.



b/ Hình vẽ bên phải;.... Hình tam giác

.... Hình chữ nhật                      hình vuông.

**ĐỀ SỐ 44:**

**Bài 1: (4 điểm)**a/ Viết các số từ 31 đến 40 theo thứ tự giảm dần:

b/ Trong các số vừa viết được, hiệu của số lớn nhất và số bé nhất là:

c/ Viết hiệu đó dưới dạng tích của 2 thừa số:

**Bài 2: (7 điểm) - 1/ Số?**

$$\square \times 3 < 12$$

$$2 \times 9 < \square \times 9$$

$$12 : \square > 2$$

$$\square - 32 = 16 + 20 - 19$$

$$41 < \square + 16 < 44$$

$$9 > \square : 2 > 7$$

**2/ Tính nhanh:**

**Bài 3: (6 điểm)**

$$5 \times 5 \times 2$$

$$26 + 17 + 23 - 24$$

1/ Thứ hai tuần này là ngày mùng 2. Hỏi thứ tư tuần sau là ngày nào? Vì sao?

2/ Ba năm trước Tân lên 6 tuổi. Hỏi sau 5 năm nữa Tân bao nhiêu tuổi.

**Bài 4: (3 điểm) Vẽ hình minh họa:**

Có 6 cây trồng thành: 3 hàng, mỗi hàng 3 cây và 3 hàng mỗi hàng 2 cây

**ĐỀ SỐ 45: Bài 1 (4 điểm)**

a) Tìm số lớn nhất điền vào chỗ chấm:

$90 > 91 - \dots > 85$

$148 < \dots < 155$

b) Các số có 2 chữ số mà tổng của chữ số hàng chục và chữ số hàng đơn vị bằng 5

**Bài 2** (4 điểm):

a) Điền số:

$\square - 28 = 15 - 3$

$18 : \square = 12 : 2$

$\square : 4 = 2 \times 3$

$3 < 15 : \square < 6$

b) Điền dấu phép tính và số thích hợp vào ô trống:

$$\begin{array}{r} 1 \square \\ \square 6 \\ \hline 74 \end{array}$$

$$\begin{array}{r} \square \square \\ \square \square \\ \hline 25 \end{array}$$

$$\begin{array}{r} \square \\ 6 \\ \hline 6 \end{array}$$

$$\begin{array}{r} 3 \\ \square \\ \hline 0 \end{array}$$

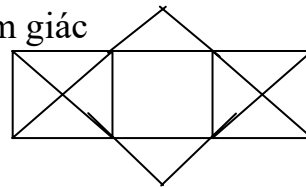
**Bài 3** (4 điểm):

a) Vũ nói: "6 giờ chẳng khác gì 18 giờ". Thư nói: "6 giờ và 18 giờ có khác nhau đấy chứ!". Em hãy cho biết Vũ muốn nói gì? Thư muốn nói gì?

b) Ngày thứ 2 đầu tiên của tháng 4 là ngày 6, vậy trong tháng 4 có mấy ngày thứ 2?

**Bài 4** (5 điểm): Trong dịp tết trồng cây mùa xuân vừa qua lớp em trồng cây được 18 cây các loại bao gồm: vải, nhãn, cam, mỗi loại 4 cây, còn lại là cây bóng mát. Tìm số cây bóng mát lớp em trồng được?

**Bài 5** (3 điểm): Hình vẽ bên có ? hình vuông ? hình tam giác



**ĐỀ SỐ 46: Bài 1** : ( 6 điểm)

1- Cho các chữ số : 0, 1, 2, 3  
số trên

a- Viết tất cả các số có hai chữ số khác nhau từ các  
b- Tính tổng các số chẵn vừa viết được ở trên:

2- Viết tiếp thích hợp vào ô trống.

1; 4; 7;  $\square$  ;  $\square$  ;  $\square$

**Bài 2** ( 5 điểm )

1- Với ba chữ số 1; 0; 6

a- Viết số có ba chữ số có giá trị lớn nhất

b- Viết số có ba chữ số có giá trị nhỏ nhất

2- Điền số :

$$\square \times 3 \rightarrow \square 12 : \dots \rightarrow \square 3$$
$$\square 2 \times \dots \rightarrow \square 14 + \dots \rightarrow \square 30$$

**Bài 3**: ( 6 điểm )

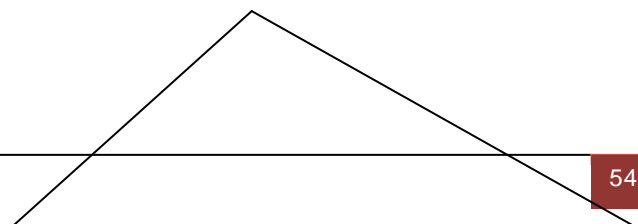
1- Thứ ba tuần này là ngày 10 tháng 4

- Thứ ba tuần trước là ngày bao nhiêu? - Thứ ba tuần sau là ngày bao nhiêu ?

2- Nếu thái cho bình 6 viên bi thì số bi của 2 bạn bạn bằng nhau mỗi bạn có 25 viên. Hỏi trước đó: + Thái có bao nhiêu viên bi? + Bình có bao nhiêu viên bi?

**Bài 4**: ( 3 Điểm ) Cho hình vẽ sau

hãy kẻ thêm 3 đoạn thẳng  
để có 4 hình tam giác.



**ĐỀ SỐ 47: BÀI 1:** ( 5 điểm )

a. Từ các chữ số 1, 3, 5, 7 hãy viết các số có hai chữ số khác nhau nhỏ hơn 50 rồi tính tổng của số lớn nhất và số nhỏ nhất trong các số đó .

b. Điền vào ô trống chữ số thích hợp ( chữ số ở các ô khác nhau )

$$\square + \square + \square + \square + \square \square + \square \square = \square \square$$

**BÀI 2:** Điền số, điền dấu thích hợp vào ô trống :

$$5 \square 5 \square 5 \square 5 \square 5 = 3$$

$$2 \square + \square 8 = 42$$

$$4 \square 4 \square 4 \square 4 \square 4 = 5$$

$$1 \square + 27 = \square 7 + 24$$

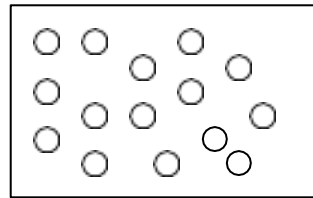
$$\square \times \square \times 4 = 6 \times \square$$

$$8 \times \square - 3 \times \square = 10$$

**BÀI 3:** Cho hình vẽ bên . Hãy gạch 2 gạch (  $\otimes$  )

vào  $\frac{1}{3}$  số ô tròn và gạch 1 gạch (  $\emptyset$  ) vào  $\frac{1}{5}$

số ô tròn còn lại .

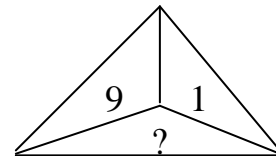
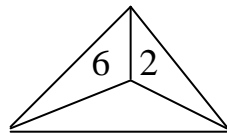
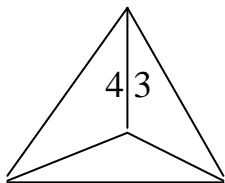
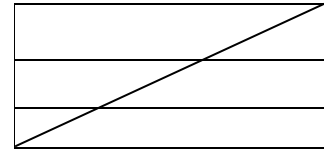


**BÀI 4:** Cho tam giác ABC có độ dài cạnh AB bằng nửa cạnh BC và bằng 5cm, độ dài cạnh AB = AC . Tính chu vi tam giác ABC .

**BÀI 5:** a. Trên hình vẽ bên có ? tam giác ? tứ giác .

.? .đoạn thẳng .

b. Tìm số còn thiếu :



**ĐỀ SỐ 48: Bài 1 (2đ)**

Điền số thích hợp vào ô trống :

$$\square 5 + \square = 98$$

$$7 \square - 59 = \square 5$$

$$6 \square - \square 2 = 24$$

$$5 \square + \square 6 = 77$$

**Bài 2:** (4đ) a) Điền dấu + , - thích hợp vào chỗ chấm :

$$14 \dots 5 \dots 7 = 12$$

$$38 \dots 15 \dots 14 = 39$$

b) Tìm X :  $X + X + X - (X + X) = 29 + 43$

$$X + X + X - 33 = 27$$

**Bài 3 :** (2đ)

Điền số thích hợp vào ô trống sao cho tổng của 4 ô liên tiếp bằng 72.

		38		15		38		12			12
--	--	----	--	----	--	----	--	----	--	--	----

**Bài 4 (3đ)**

Ngày 3 tháng 2 năm 2001 là thứ ba . Hỏi :Ngày 11 tháng 2 năm 2001 là thứ mấy? Trong tháng 2 có ? chủ nhật ? ( Biết rằng tháng 2 đó có 28 ngày )

**Bài 5 :** (5đ) Nam và Bắc có cùng một số nhãn vở . Nam vừa được mẹ cho thêm 36 nhãn vở . Nam cho Bắc 19 nhãn vở . Bây giờ Nam và Bắc ai nhiều nhãn vở hơn và nhiều hơn bao nhiêu ?

**ĐỀ SỐ 49:**

**Bài 1:(2điểm)** Cho các chữ số 1 , 2, 3.

a, Hãy lập các số có hai chữ số khác nhau từ ba chữ số trên.(1điểm)

b, Tính tổng các số lớn nhất có hàng chục là 1,2,3 vừa tìm được.

**Bài 2(2điểm)**

a, Viết tiếp 4 số thích hợp vào dãy số sau 1,2,3,5,8,.....,.....,.....,.....,

b, Tìm hiệu lớn nhất của hai số có hai chữ số là.....

**Bài 3:(4điểm)**

a, Năm nay An 6 tuổi.Sau 3 năm nữa thì tuổi của mẹ gấp 4 lần tuổi của An. Hỏi mẹ năm nay bao nhiêu tuổi?

b, Có 28 cái kẹo chia cho các em bé. Mỗi em được  $\frac{1}{4}$  số kẹo đó .

Hỏi: a, Có mấy em được chia kẹo?

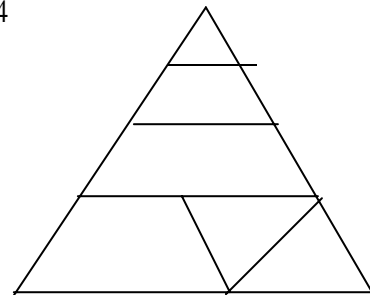
b, Mỗi em được mấy cái kẹo?

**Bài 4:(2điểm)**

Hình vẽ bên có :

1,.....hình tam giác.

2, .....Hình tứ giác.



## ĐỀ SỐ 50:

### **Bài 1:** (4,5 điểm)

a) Viết tất cả các số có hai chữ số mà tổng các chữ số của nó bằng 16 và chữ số hàng chục hơn chữ số hàng đơn vị là 2 (có giải thích).

Cho 3 chữ số 0, 5, 8.

- Hãy viết tất cả các số có hai chữ số từ các chữ số trên
- Viết các số trên theo thứ tự từ bé đến lớn

### **Bài 2:** (5,5 điểm)

a) Điền chữ số thích hợp vào ô trống để được phép tính đúng.

$$\begin{array}{r} \square 2 \\ + \\ \hline 1 \square \\ 8 1 \end{array} \quad \begin{array}{r} 2 \square \\ + \\ \hline \square 5 \\ 4 3 \end{array} \quad \begin{array}{r} 7 \square \\ - \\ \hline \square \square \\ 2 4 \end{array} \quad \begin{array}{r} 8 2 \\ - \\ \hline \square 4 \\ 4 \square \end{array} \quad \begin{array}{r} \square 8 \\ - \\ \hline 7 \square \\ \square 9 \end{array}$$

b) Tìm x:  $x - 17 = 18 + 25$

$x : 5 = 2 \times 4 + 7$

### **Bài 3:** (6điểm)

a) Mai có 28 bông hoa. Mai cho Hòa 8 bông hoa. Hòa lại cho Hồng 5 bông. Lúc này ba bạn đều có số bông hoa bằng nhau. Hỏi lúc đầu Hòa và Hồng mỗi bạn có bao nhiêu bông hoa?

b) Ngày sinh nhật của Hùng là 20 tháng 9 là ngày Chủ nhật. Hãy điền tiếp vào vào chỗ chấm ngày của tháng.

- Chủ nhật tuần đầu của tháng là ngày nào?
- Chủ nhật cuối cùng của tháng là ngày nào?

### **Bài 4:** (4 điểm)

a) Tính nhanh:  $10 - 9 + 8 - 7 + 6 - 5 + 4 - 3 + 2 - 1$ .

b) Hình bên có :

- ..... hình tam giác.
- ..... hình tứ giác.

